



# CALCULO MENTAL

Esta rana come sólo 10 mosquitos cada día. **Guíala** al charco pasando siempre por 2 números cuya suma sea 10.



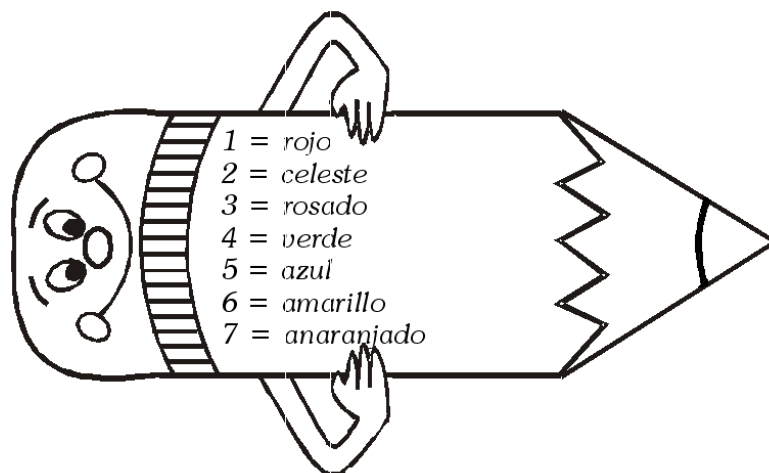
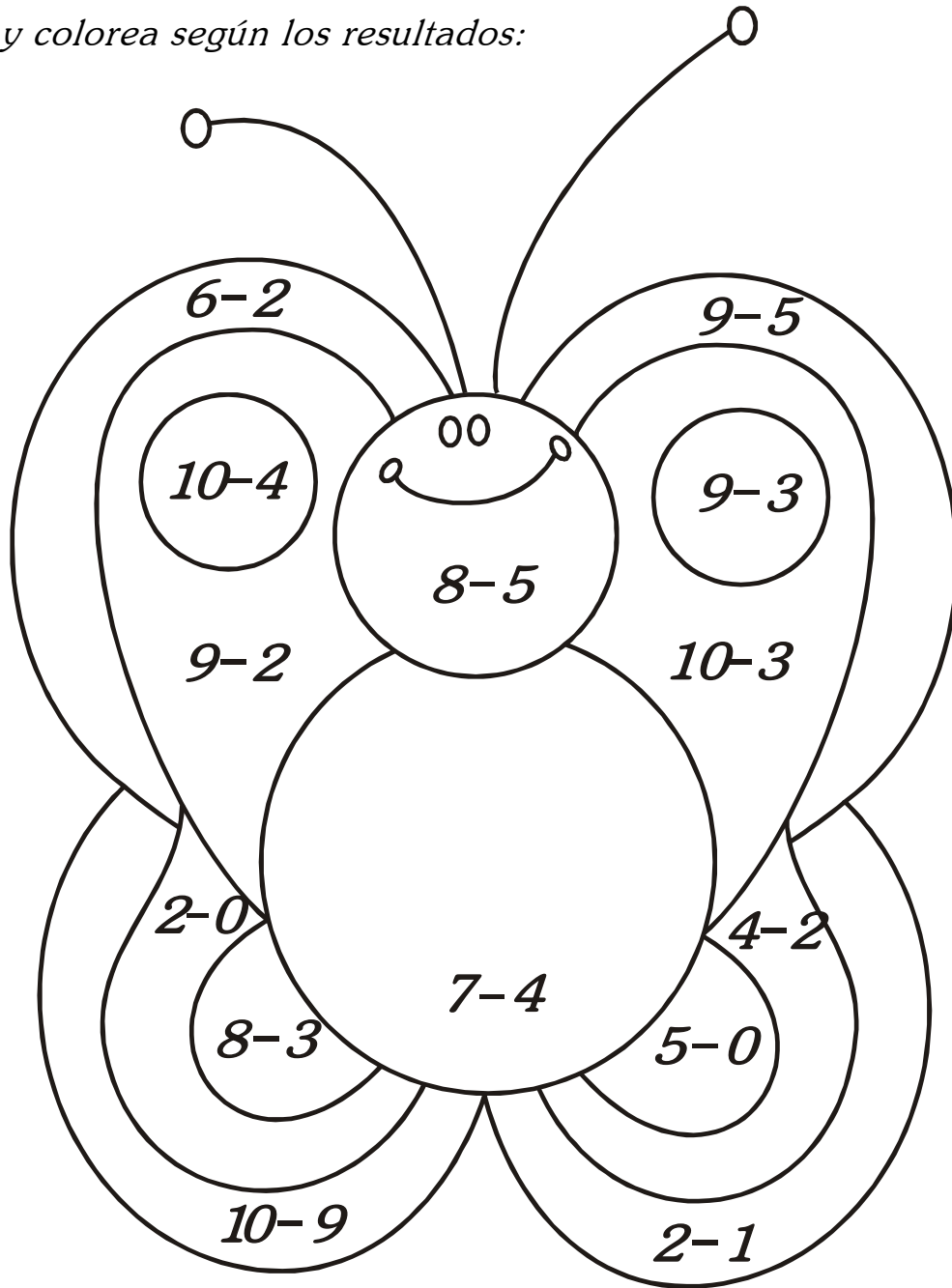
8	2	3	3	4	7	5	1	0	4	5
9	5	8	4	3	2	1	0	3	7	0
8	5	0	9	6	0	1	2	9	3	6
0	1	0	4	1	3	2	9	8	4	0
2	9	3	7	5	5	0	7	6	3	1
2	3	4	2	2	2	1	9	0	6	2
1	6	5	0	1	8	6	4	0	3	4
4	3	6	1	0	7	1	8	3	0	9
7	3	2	4	4	2	3	2	9	1	2
5	4	5	2	0	5	1	3	0	4	2
2	7	3	1	8	6	0	1	5	6	9
0	1	2	5	4	3	7	3	3	2	8






# CIRCULO EDUCATIVO

► Resuelve y colorea según los resultados:



JUEGO, PIENSO Y RAZONO



► *Colorea de acuerdo a los resultados.*

0 = azul      2 = celeste      4 = amarillo      6 = marrón      8 = morado

1 = rojo    3 = verde    5 = rosado    7 = naranja

CÁLCULO MENTAL



1)  $(?) < 10$

- a) 20
- b) 14
- c) 3
- d) 22

3)  $(?) = 35$


- a) 29
- b) 35
- c) 18
- d) 14

2)  $= 8$

- a)  $4 + 4$
- b)  $2 + 3$
- c)  $5 + 1$
- d)  $9 + 2$

4)  $(?)$  es  $2D + 5U$

- a) 15
- b) 65
- c) 45
- d) 25



► *Observa y marca las respuestas correctas.*

*Suma mentalmente y une  
con su resultado*

$24+8$

$44$

$35+5$

$36$

$42+2$

$32$

$29+7$

$57$

$50+7$

$40$



# CIRCULO EDUCATIVO



1)  $(?) > 20$

- a) 4
- b) 9
- c) 28
- d) 19

2)  $(?) > 28$

- e) 11
- f) 20
- g) 24
- h) 36

3)  $(?) > 30$

- i) 45
- j) 29
- k) 27
- l) 26

4)  $(?) > 50$

- ll) 37
- m) 29
- n) 51
- ñ) 8

5)  $(?) > 58$

- o) 60
- p) 52
- q) 47
- r) 39

6)  $(?) > 60$

- s) 59
- t) 50
- u) 47
- v) 61

7)  $(?) > 40$

- w) 40
- x) 20
- y) 60
- z) 10

8)  $(?) > 35$

- a) 35
- b) 53
- c) 27
- d) 17

9)  $(?) > 29$

- e) 92
- f) 10
- g) 15
- h) 22

10)  $(?) > 20$

- i) 26
- j) 32
- k) 49
- l) 16

11)  $(?) > 36$

- ll) 36
- m) 18
- n) 42
- ñ) 21

12)  $(?) > 64$

- a) 46
- b) 64
- c) 39
- d) 70

## CIRCULO EDUCATIVO

13)  $(?) < 40$

- a) 40
- b) 45
- c) 53
- d) 28

14)  $(?) < 70$

- e) 71
- f) 80
- g) 20
- h) 75

15)  $(?) < 60$

- i) 59
- j) 60
- k) 61
- l) 62

16)  $(?) < 39$

- ll) 80
- m) 53
- n) 40
- ñ) 7

17)  $(?) < 28$

- o) 82
- p) 34
- q) 10
- r) 50

18)  $(?) < 36$

- s) 37
- t) 39
- u) 63
- v) 6

19)  $(?) < 45$

- w) 40
- x) 48
- y) 62
- z) 71

20)  $(?) < 52$

- a) 90
- b) 25
- c) 60
- d) 55

21)  $(?) < 63$

- e) 36
- f) 71
- g) 68
- h) 64

22)  $(?) < 52$

- i) 55
- j) 51
- k) 72
- l) 62

23)  $(?) < 48$

- ll) 84
- m) 47
- n) 48
- ñ) 49


24)  $(?) < 28$

- o) 82
- p) 29
- q) 15
- r) 48




## ¡A divertirnos!

► Une los puntos, después observa su apariencia.



► Resuelve este crucinúmero.



### Verticales

1. Número mayor que 4 y menor que 6.
2. A la adición también se le llama...
3. Resultado de 13 menos 10.
4. Figura geométrica de 3 lados.

### Horizontales

5. A 18 le restamos 12 y nos queda...
6. Es igual a 3 decenas.
7. Signo de la sustracción.
8. Una decena más una unidad.
9. Número mayor que 3 y menor que 5.

CÁLCULO MENTAL

► Observa la clave y resuelve los ejercicios.



1) ( + ) = \_\_\_\_\_


2) U - O = \_\_\_\_\_

3) ) + ∩ = \_\_\_\_\_

4) ∩ + U = \_\_\_\_\_

5) U + O = \_\_\_\_\_


6) ) - U = \_\_\_\_\_



## CÁLCULO MENTAL

► Colorea el cuadro del resultado correcto.

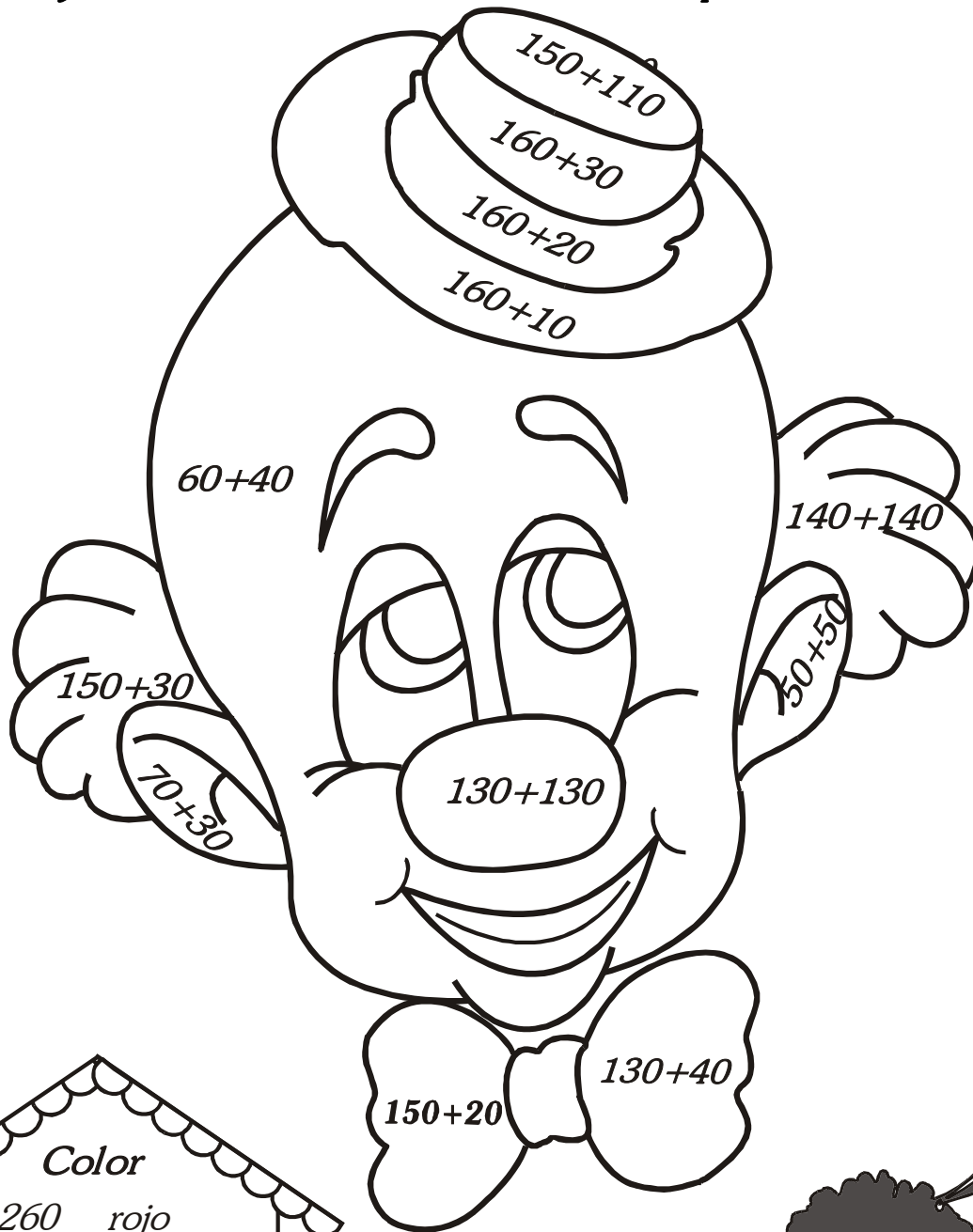
$26 + 5$	41	31	51
$62 + 8$	80	60	70
$75 + 5$	80	52	89
$120 + 20$	150	140	160
$142 + 42$	384	284	184
$186 + 13$	199	299	99



$72 - 21$	41	51	31
$89 - 45$	64	34	44
$126 - 113$	13	23	33
$189 - 145$	44	64	74
$200 - 100$	10	100	20
$163 - 22$	141	161	171

# CIRCULO EDUCATIVO

► Resuelve y colorea los resultados como corresponde.



Color	
260	rojo
170	amarillo
180	verde
190	azul
100	rosado



PROBLEMAS – PROBLEMITAS

1) ¿Cuántas patas hay en 3 mesas? = \_\_\_\_\_

2) Un número  $>$  de 60 y  $<$  a 62 = \_\_\_\_\_

3) ¿Cuántas llantas hay en 2 triciclos? = \_\_\_\_\_

4) ¿Cuánto es  $9 - 3$ ? = \_\_\_\_\_

5) ¿Cuánto le falta a 8 para ser 20? = \_\_\_\_\_

6) ¿Qué número está después de 48? = \_\_\_\_\_

7) ¿Qué número está entre 69 \_\_\_\_\_ 71? = \_\_\_\_\_

8) ¿Cuánto le sobra a 20 para ser 15? = \_\_\_\_\_

