

EL PERU

EL PERÚ Y SUS LIMITES



Nuestro país limita hacia:

El norte con : _____ *y* _____

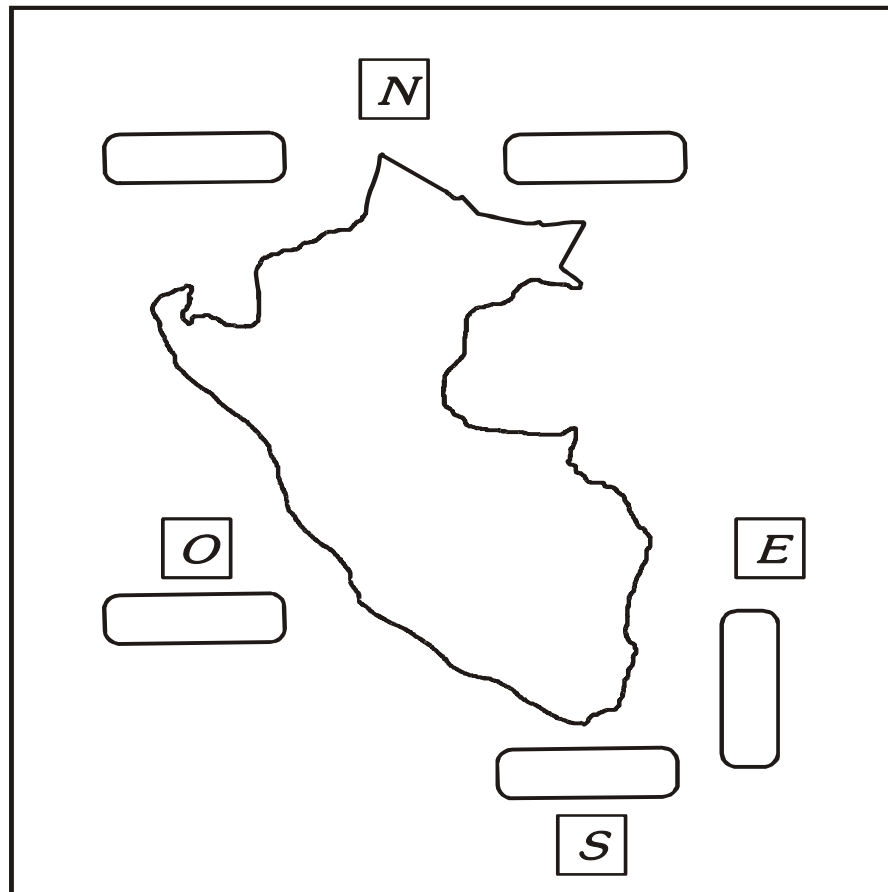
Por el sur con : _____

Por el este con : _____ *y* _____

Por el oeste con : _____

ACTIVIDAD

* *Completa los límites del Perú y colorea nuestro país.*



CIRCULO EDUCATIVO

* Coloca el nombre de los países limítrofes del Perú y píntalos.



Chile → *Rojo*

Brasil → *Verde*

Ecuador → *Azul*


Colombia → *Amarillo*

Bolivia → *Naranja*

Perú → *Celeste*

¿CÓMO SE DIVIDE NUESTRO PERÚ?

Nuestro país llamado _____ se ha dividido en _____ departamentos y _____ provincia que es el _____. Los departamentos se dividen en _____, y estas a su vez en _____.



OBSERVA EL MAPA DE NUESTRO PAÍS

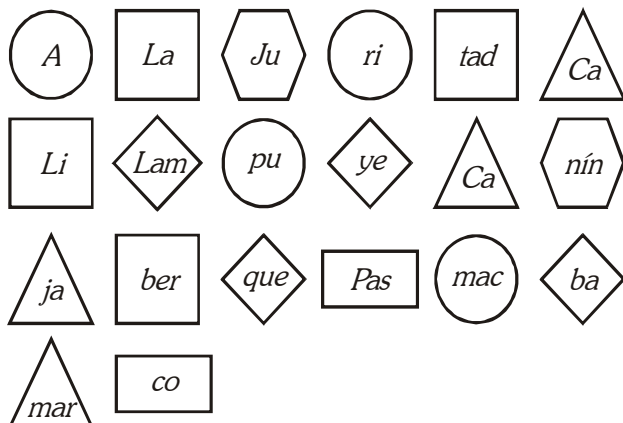


¡Ahora Pinta!

- * *Rojo* : El departamento donde tu vives.
- * *Amarillo* : El departamento más pequeño.
- * *Verde* : El departamento más grande.

¿CUÁNTO APRENDÍ?

1) Une las sílabas y encontrarás el nombre de algunos departamentos:



○ _____	⬡ _____
◇ _____	□ _____
△ _____	▭ _____

2) **MAPA GRAMA.** Completa con todo lo que aprendiste

1. El Perú está dividido en 24 ...
2. Los departamentos están dividida en ...
3. Las provincias se dividen en...
4. Al oeste, Perú limita con el ...
5. Uno de los países con los que limitamos en el norte.
6. El departamento al norte de Tacna es...
7. La ciudad mas grande del Perú es...
8. Nuestro ... está formado por las cosas que los peruanos tenemos en común;
por ejemplo, nuestra historia, música, comida y costumbres
9. El es la fiesta que se celebra en el Cusco todos los años el 24 de junio.

CIRCULO EDUCATIVO

10. El departamento de limita con Loreto y San Martín por el este y con Cajamarca por el oeste.
11. La provincia constitucional del Perú es ...
12. El departamento de ... es el más pequeño del Perú.
13. Por el este, el Perú limita con Brasil y ...
14. A diferencia de los ..., los mapas representan territorios más amplios.


1.			P			T			N			S
									2. P	O		
												Q
3.		I					T	S				
								↓				
	4.	O		E				O	→			I
	5.	E						R				
	6.	M						G		A		
	7.	L						A				
8.	P	A	T	R	I	M	O	N	I	O	→	
									9. I	T	→	R
											Y	
	10.	A				Z				A		
	11.					A						O
	12.	T				M				E		
	13.					O				V		
14.	P					N		S				

3) COMPLETA

- * El río más caudaloso y largo del Perú es : _____
- * El lago mas alto del Perú es : _____
- * La capital del Perú es : _____
- * El Perú según su clima esta dividido en _____ , _____ y _____
- * Machu Picchu se encuentra en el departamento de : _____
- * Volcán ubicado en el departamento de Arequipa: _____
- * El departamento más grande del Perú es : _____



CIRCULO EDUCATIVO



TALLER DE DESTREZAS

ARMANDO UN ROMPECABEZAS

Materiales:

- * goma
- * colores
- * tijera

Procedimiento:

- 1.- Recorta cada ficha del rompecabezas del Perú.
- 2.- Coloca cada ficha en el lugar que corresponda.
- 3.- Reconoce los departamentos y luego píntalos de diferentes colores.

Mapa Político del Perú

