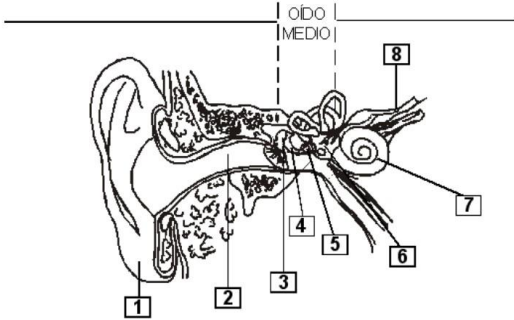




EVALUACIÓN

1.- Completa adecuadamente:

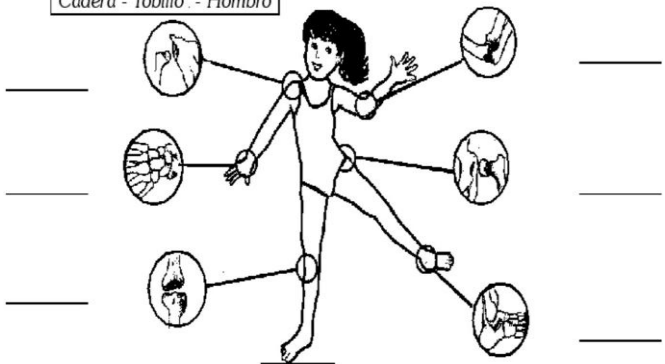


- 1. _____
- 2. _____
- 3. _____
- 4. _____
- 5. _____
- 6. _____
- 7. _____
- 8. _____

2.- A través de dibujos representa y explica ¿Qué estudia la Química?

3.- Fíjate en las siguientes articulaciones y escribe sus nombres

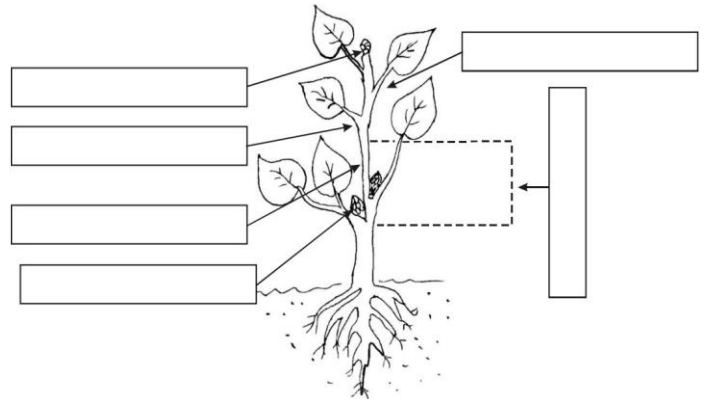
Rodilla - Codo - Muñeca
Cadera - Tobillo - Hombro



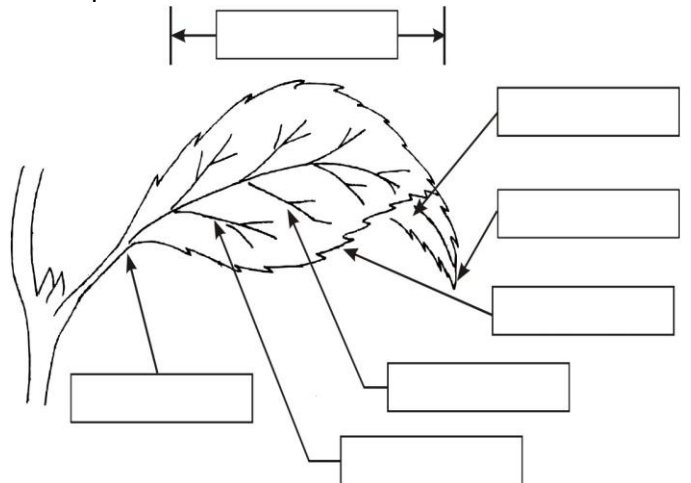
4.- Completen la siguiente tabla:

Fecha en que...	Semilla de frijol	Semilla de maíz
Apareció la raíz		
Apareció el tallo		
La raíz tiene 2 cm		
La raíz tiene 4 cm		
El tallo tiene 2 cm		

5.- Señala las Partes del Tallo.

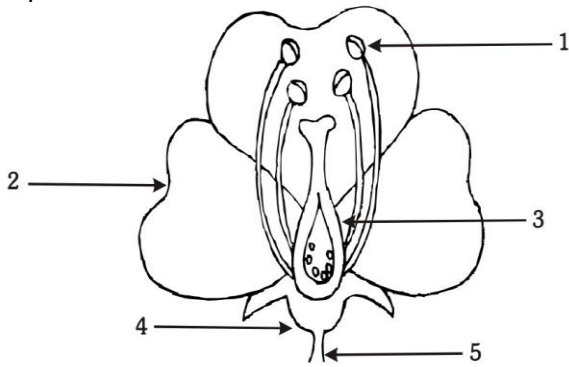


6.- Coloca los nombres de la nube donde corresponda:



CIRCULO EDUCATIVO

7.- Coloca el número en el cuadrito que corresponda:



COROLA	PEDÚNCULO	ESTAMBRES
PISTILO	CÁLIZ	

8.- Completa:

DIVISIÓN	Se divide en...	A través de medios...
1	Materia	
2		Partículas
3	Partículas	Físicos
4	Moléculas	
5		Químicos

9.- Indica con flechas quién es el alimento de quién y completa las oraciones.

La planta sirve de alimento al _____.

El grillo es el alimento de la _____.

La rana es el alimento de la _____.

La _____ es el alimento del águila.

10.- Escribe si pertenece a fuente natural o fuente artificial:

- El sol _____
- Las bombillas elede electricidad _____
- Luciérnagas _____
- Tubos fluorscente _____
- Antorcha _____
- La vela _____
- Las estrellas _____
- Seres bioluminosos _____
- Arco eléctrico _____