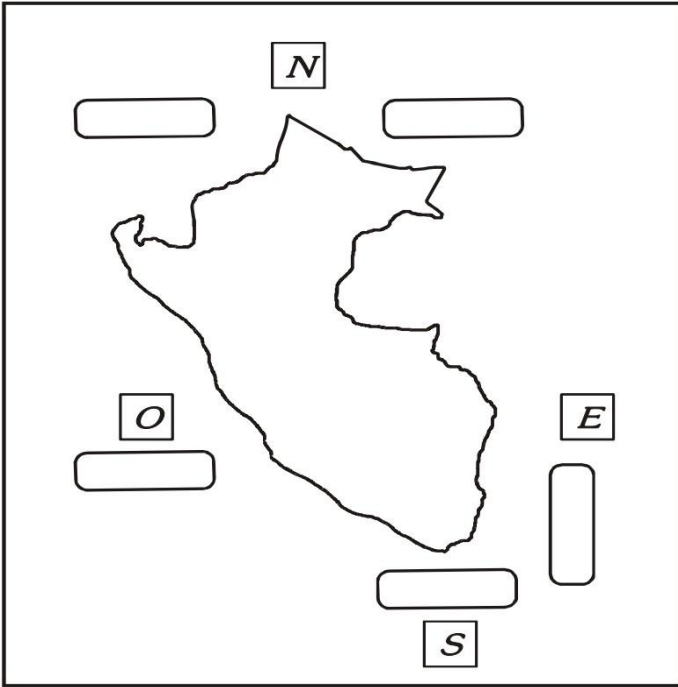


**EVALUACIÓN**

1.- Completa los límites del Perú y colorea nuestro país.



2.- Marca la respuesta correcta

1.- Alex Hrdlicka sostuvo que el hombre americano vino de:

- a) Oceanía
- b) Polinesia
- c) Asia
- d) América

2.- Alex Hrdlicka llegó a ésta conclusión por:

- a) Hombre de tamaño pequeño
- b) Cabello claro
- c) Ojos rasgados
- d) Piel blanca

3.- Completa el cuadro:

Los hombres del Perú antiguo	Se dedicaban a:	Vivían en...
Nómada	* _____ * _____ * _____	_____
Sedentario	* _____ * _____	_____

4.- Coloca la letra correspondiente

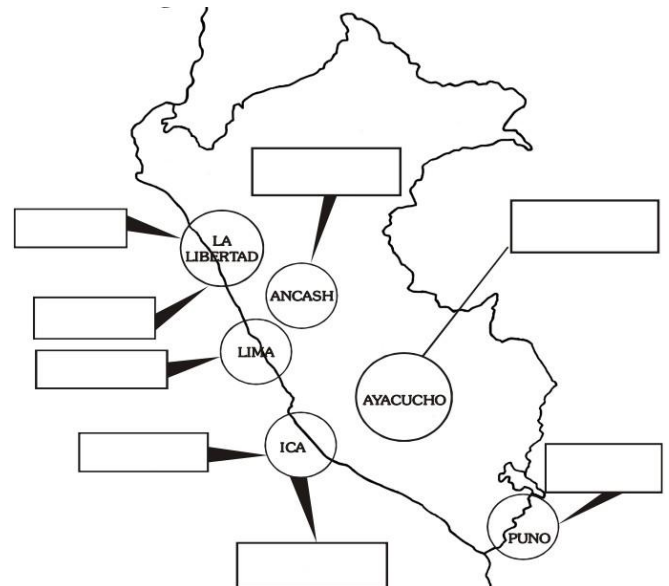
- a) Pirámides ( ) Dirigían la sociedad caral.
- b) Algodón ( ) Planta medicinal para aliviar el dolor.
- c) Sauce ( ) Ofrenda a dioses.
- d) Sacerdotes ( ) Principal producto agrícola
- e) Textiles ( ) Construcciones de adobe y piedras

5.- Sopa de letras



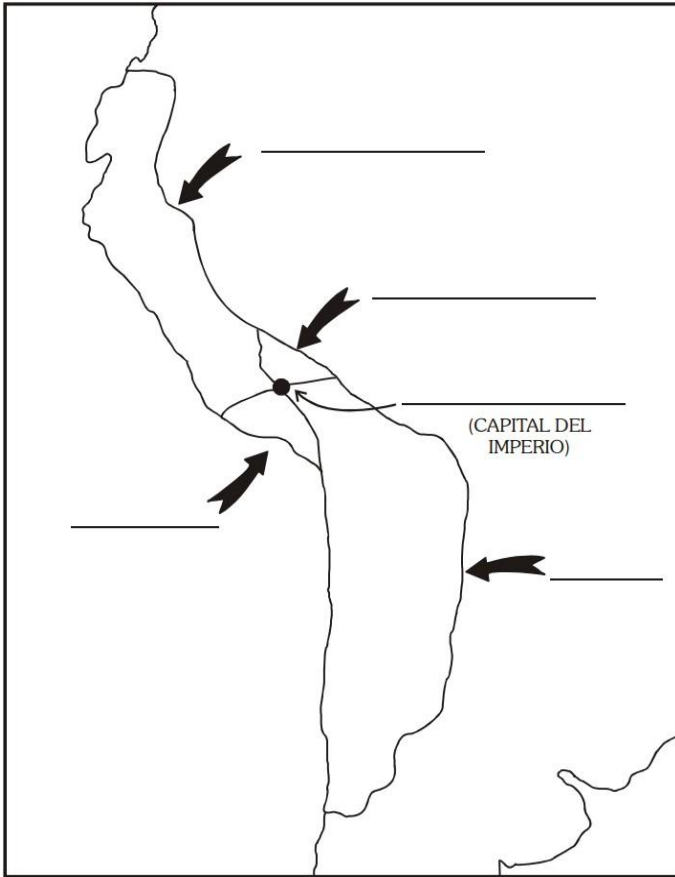
- \* Chavín
- \* Cabeza clava
- \* Obelisco
- \* Lanzón
- \* Ancash
- \* Piedra
- \* Polícroma

6.- Escribe el nombre de cada cultura según el lugar al que pertenece





# CIRCULO EDUCATIVO

7.- Coloca el nombre a cada suyo:



8.- Coloca el nombre a cada aporte.



9.- Los recursos naturales:

Animales: \_\_\_\_\_

Vegetales: \_\_\_\_\_

Minerales: \_\_\_\_\_

10.- Colorea según el color de la región y coloca sus nombres



- |            |               |
|------------|---------------|
| (celestes) | - mar peruano |
| (amarillo) | - costa       |
| (marrón)   | - sierra      |
| (verde)    | - selva       |