



EVALUACIÓN

1.- Observa y escribe el número que corresponde a cada dibujo, de acuerdo a la época a la cual pertenecen:

PERÚ AUTÓCTONO


PERÚ DEPENDIENTE

PERÚ REPUBLICANO

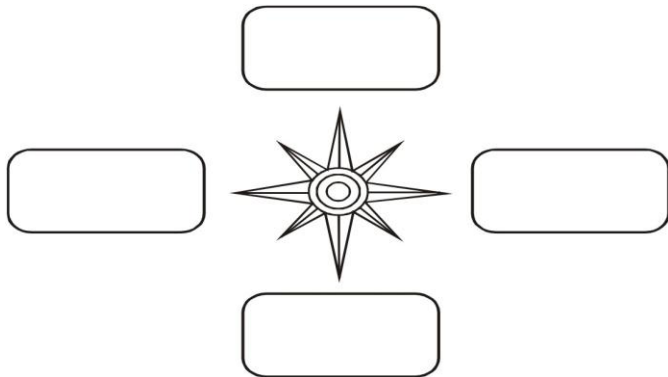
1

2

3



2.- Dibujar los siguientes objetos: - Al Norte un florero - Al Sur una silla - Al Este un televisor - Al Oeste una mesa



3.- Señala con un aspa (X) la respuesta correcta:

1. No es un paralelo.

- El Círculo Polar Ártico
- El Trópico de Capricornio
- El Eje Terrestre
- El Trópico de Cáncer

4.- Observa el mapa de América del Sur y ubica: El Perú (pinta de color rojo), Países limítrofes (color amarillo), Otros países (anaranjados)



5.- Ubica en el mapa los departamentos de la selva y píntalos de verde. - Loreto - Amazonas - San Martín - Ucayalí - Madre de Dios

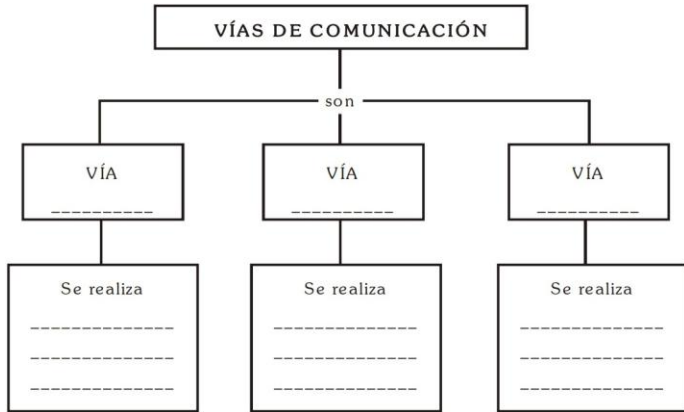


CIRCULO EDUCATIVO

6.- Relaciona cada continente con los océanos que lo rodean. Recuerda que varios océanos pueden cercar un continente.

Océano Pacífico	América
Océano Atlántico	Europa
Océano Índico	África
Océano Antártico	Oceanía
Océano Glacial Ártico	Asia
	Antártida

7.- Completa el cuadro



8.- Lee el siguiente texto y contesta: Juanita se encontraba viendo televisión en la sala de su casa y su hermanita Karina estaba en la cocina jugando con los fósforos aprovechando que mamá no estaba en casa, de pronto Karina había provocado un incendio y el humo se expandía por toda la casa. Indica las medidas que debió tomar Juanito durante el incendio.

9.- Numera los siguientes grupos de animales, según el orden en que aparecieron sobre la tierra.

10.- En el mapa del Perú, ubica a los horticultores seminómades escribiendo los nombres y coloreándolos correctamente.



El hombre de Paracas - El hombre de Chilca
 El hombre de Guitarrero