

EVALUACIÓN

1.- Ordena en forma decreciente:

a) 75, 48, 110, 36, 49, 95, 86

b) 88, 36, 12, 4, 97, 101, 38

c) 77 - 42 - 38 - 42 - 120 - 36 - 18

d) 55 - 63 - 72 - 12 - 45 - 63

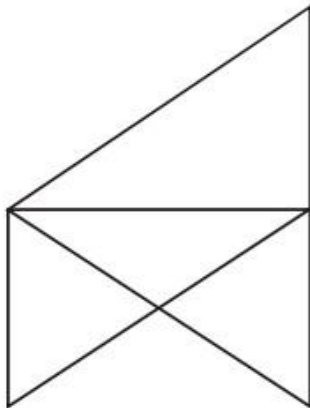
e) 42 - 44 - 36 - 18 - 9 - 7 - 5 - 11

f) 38 - 40 - 56 - 64 - 18 - 13 - 5

2.- Cuenta las figuras:

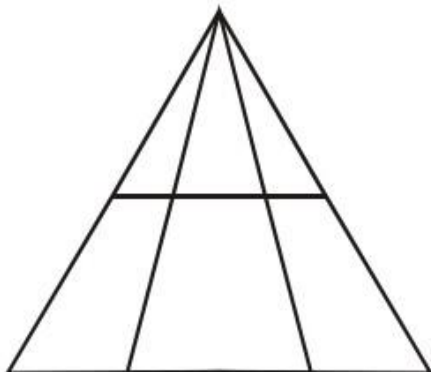
¿Cuántos triángulos hay?

- a) 6
- b) 7
- c) 8
- d) 9
- e) 10

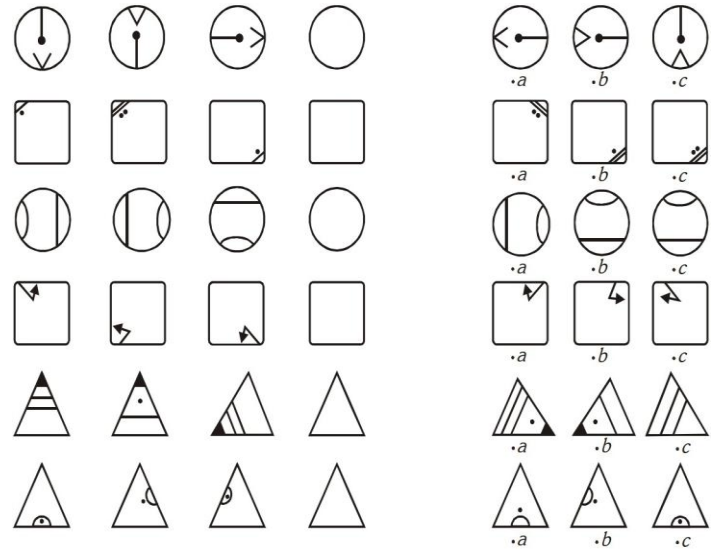


¿Cuántos triángulos hay?

- a) 11
- b) 12
- c) 13
- d) 14
- e) 15



3.- Dibuja la cuarta figura que sigue, seleccionando una de las propuestas.



4.- Observa y escribe los números que siguen.

10 ⁺⁵ 15 ⁺⁵ ○ — ○ — ○ — ○ — ○

13 ⁻¹ ○ — ○ — ○ — ○ — ○ — ○

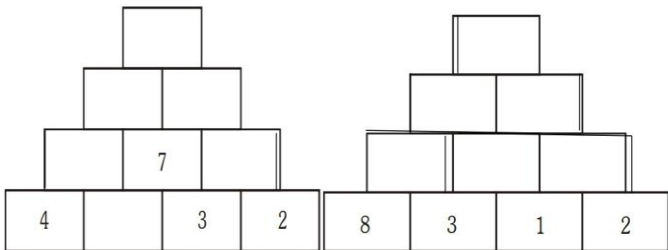
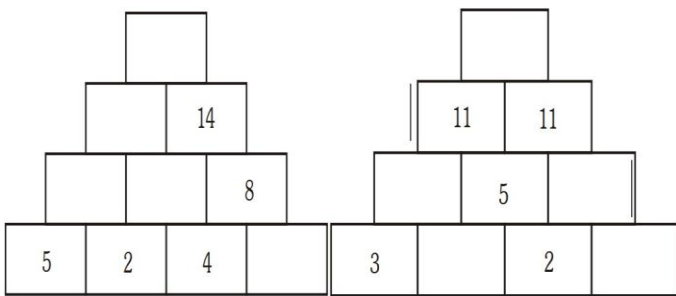
20 ⁻² 18 ○ — ○ — ○ — ○ — ○

10 ⁺¹⁰ ○ — ○ — ○ — ○ — ○

9 ⁺³ 12 — □ — □ — □ — □

CIRCULO EDUCATIVO

5.- Completa las pirámides



6.- Escribe los números que faltan en los recuadros vacíos.

$$\begin{array}{r} 8 \square + \\ 87 \\ \square 5 \\ \hline 188 \end{array}$$

$$\begin{array}{r} 87 + \\ 76 \\ 3\square \\ \hline 1\square 9 \end{array}$$

$$\begin{array}{r} 769 - \\ 2\square 3 \\ \hline 546 \end{array}$$

$$\begin{array}{r} 9\square 5 - \\ 352 \\ \hline 633 \end{array}$$

7.- Une con una línea cada oración con su respuesta correcta.

Tengo 5 cajas con 6 lápices en cada una	9	4
Distribuyo 12 panes entre 3 niños	9	\times 5
Reparto 9 globos entre 4 niños	12	3
Tengo 9 jaulas con 5 canarios en cada una	5	\times 6
Reparto 7 libros entre 7 personas	9	\times 3
Regalo 2 decenas de cromos	2	\times 10
Compro 9 sobres con 3 cromos en cada uno	7	7
Trabajo 8 horas diarias durante 4 días	10	5
Distribuyo 10 cuadernos entre 5 personas	8	\times 4
Escribo 6 hojas diarias durante 3 días	8	2
Distribuí 10 naranjas entre 2 niños	6	\times 3
Reparto 8 chocolates entre 2 hermanos	10	2
Corto 6 metros de tela en 3 trozos iguales	10	\times 5
Reparto 9 caramelos entre 3 niños	6	3
Vendí 10 cajas con 5 peras en cada una	9	3

8.- Resuelva las operaciones en el orden que están.

$$\begin{array}{r} 30 - 6 - 4 + 20 \\ \swarrow \quad \downarrow \\ \square - \square \\ \swarrow \quad \downarrow \\ \square + \square = \square \end{array}$$

$$\begin{array}{r} 36 + 18 - 8 - 11 \\ \swarrow \quad \downarrow \\ \square - \square \\ \swarrow \quad \downarrow \\ \square - \square = \square \end{array}$$

CIRCULO EDUCATIVO

9.- Poner los dígitos en los para detener las respuestas correctas:

7	6	
□	□	×
4	□	
□	□	
—		
3	2	2

6	9	
□	□	×
□	4	
□	□	
—		
5	6	4

9	7	
□	□	×
□	4	
□	□	
—		
6	6	6

4	6	
□	□	×
8	□	
□	□	
—		
5	0	4

10.- Completa los cuadrados mágicos siguientes:

Suma = 18	Suma = 21
-----------	-----------

9	2	7
4		
	10	

		8
5	7	
	11	