




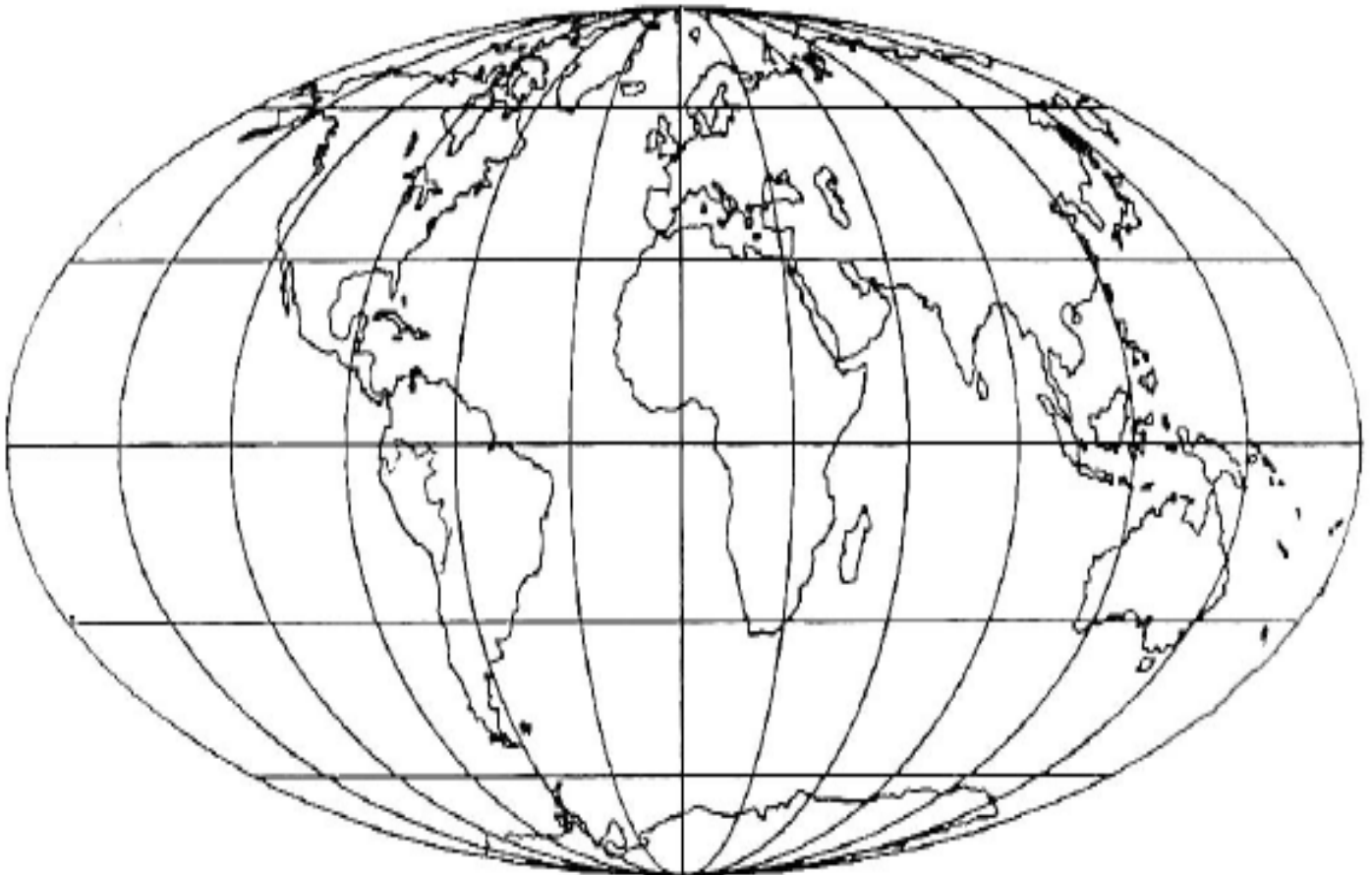
# GEOGRAFIA FISICA DEL PERU

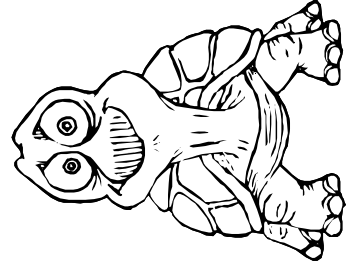
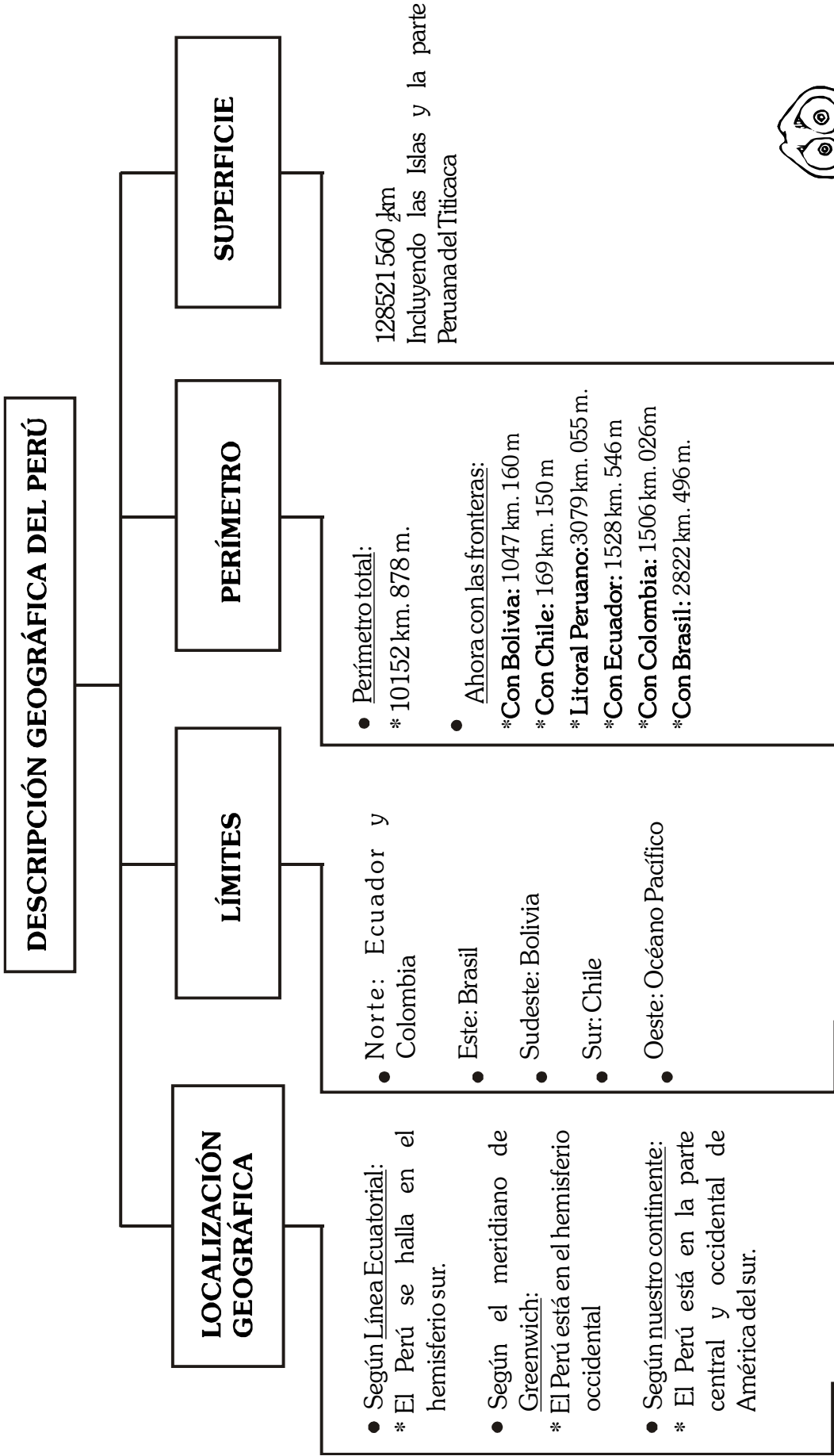


El territorio peruano tradicionalmente se divide en: Costa, Sierra, Selva y Mar Peruano, ocasionado por el principal fenómeno geográfico la «Cordillera de los Andes».

Nuestro país posee todos los climas del mundo desde el tropical hasta un clima polar. Posee el nevado más bello del mundo : Alpamayo (Ancash – Cordillera Blanca), es grandioso en recursos minerales, el cobre es el mineral más explotado. Posee 76,5 millones de hectáreas de bosques más de la mitad de la superficie; es inmensamente rico en biodiversidad, riqueza marina con más de 800 especies de consumo.

En el siguiente gráfico localiza y traza: El Ecuador terrestre (verde), el meridiano base (rojo) y pinta el continente donde se halla Perú de amarillo.









## I. UBICÁNDONOS EN SUDAMÉRICA

En el siguiente mapa, pinta la superficie que corresponde a nuestro país de color amarillo, y escribe su capital, de color azul los países fronterizos del Norte, de verde al que limita al este, de rosado al que limita al sur, de anaranjado al sudeste y de celeste la parte que el Perú limita al Oeste.



## PRÁCTICA DE PERSONAL SOCIAL

Nombre: \_\_\_\_\_ Grado: 4<sup>to</sup> \_\_\_\_\_

### I. Lee atentamente el siguiente texto:

Luz María realizó un viaje hacia los países fronterizos del Perú, primero viajó hacia el noroeste, donde pudo conocer varias playas. Luego se dirigió al país que está al noreste del Perú, en el cual le impresionaron las haciendas de café. Posteriormente, fue al sudeste y se encontró con un país semejante al Perú, pero que le llamó la atención por encontrarse a tal altura que le dio mareos. Por último, conoció al país que tiene menor extensión de frontera con el Perú.

### Responde las preguntas:

1. ¿Cuál fue el primer país que conoció Luz María?

\_\_\_\_\_

2. ¿En qué país encontramos haciendas de café?

\_\_\_\_\_

3. ¿Con qué país tenemos menor extensión de frontera?

\_\_\_\_\_

### II. Observa el mapa de Sudamérica y pinta lo que indica. Luego completa el nombre de los países en las líneas pintadas:

a) De rojo el país que limita con el Perú por noreste: .....

b) de amarillo el que limita con el Perú por el sudeste: .....

c) De celeste el país con el que tenemos la frontera más extensa: .....

d) De naranja el país fronterizo con Tacna: .....

# CIRCULO EDUCATIVO



### III. Completa:

- País más grande América del Sur: .....
- Océano que baña las costas del Perú: .....
- País que limita por el norte con Perú: .....
- País con menor extensión de frontera con Perú: .....
- País no fronterizo con Perú: .....
- Océano que baña las costas de Venezuela: .....
- Países mediterráneos: .....
- País bañado por ambos océanos: .....

O. Atlántico - Ecuador - Chile - O. Pacífico - Bolivia  
Brasil - Colombia - Uruguay - Paraguay