

# GEOGRAFIA FISICA EN LA SELVA


*La selva se encuentra situada en las partes bajas del flanco oriental de los Andes.*

*Su territorio es bastante complejo en donde distinguimos dos regiones altitudinales.*

- $\pi$  **Selva Alta:** Es la parte más sobresaliente en toda su amplitud, con sus cadenas de montañas con afiladas crestas, flancos abruptos y amplios valles. Está cubierta de bosques tropicales, que se desarrollan por el impulso de las altas temperaturas y lluvias. Sus suelos son inclinados, por tanto, son suelos que no se inundan, siendo en consecuencia óptimos para el desarrollo de actividades económicas.
- $\pi$  **Selva baja:** Presenta un relieve de llanura, cubierta de un denso bosque tropical, es inundable, cuando los ríos confrontan su período de creciente.



- Pinta el siguiente gráfico:




## L O R E T O

El departamento de Loreto constituye la mayor área selvática y territorial que posee el Perú. Clima, flora y fauna – y en especial el río Amazonas, el más largo y caudaloso del mundo – son su vida misma.

En ellos, el hombre de las ciudades, que se transporta en cruceros y peque-peques, ha dejado atrás la prejuiciosa imagen de vida rudimentaria y salvaje que arrastraba desde épocas coloniales, para demostrar su inserción en el mundo moderno y productivo gracias a dinámicos proyectos de desarrollo nacional, como los de explotación petrolera, maderera y turística.

Y en las comunidades nativas, los usos, costumbres y cosmovisión siguen basándose en el respeto a la Madre Naturaleza como la mejor forma de afirmación cultural y defensa ante los embates de la modernidad.

### GENERALIDADES



*Capital: Iquitos*

*Superficie: 368 852 Km<sup>2</sup>*

*Clima: Templado húmedo  
Cálido húmedo y tropical*


*Temperatura: Entre 22° – 31°C*

*Provincias: Alto Amazonas, Loreto, Mariscal Ramón  
Castilla, Maynas, Requena y Ucayali.*

*Nº de distritos: 47 distritos*

*Atractivos*

*turísticos: Fiesta de San Juan, grupos étnicos, río  
Amazonas, paradisíacos paisajes, etc.*





## I. LOS RÍOS DE LORETO:


Pese al calor de la zona, la actividad turística es intensa en este departamento específicamente en Iquitos, a orillas del Río Amazonas. En este lugar viven dos mundos a la vez: el exótico de la jungla y el de la ciudad moderna con calles llenas de comercio. En sus alrededores se puede visitar el Río Nanay, el Morococha, y la Laguna de Quistococha, en donde se crían alevinos de paiche.

En Zungarococha, lago ubicado en la margen derecha del Río Nanay, aguas arriba, no sólo se puede apreciar un hermoso paisaje, sino también baños y pasear en canoa.

Aquí se encuentra ubicada la Reserva Nacional de Pacaya-Samiria, que se caracteriza por poseer una gran variedad de especies animales y vegetales.

**Responde:**

1. Principales ríos de Loreto

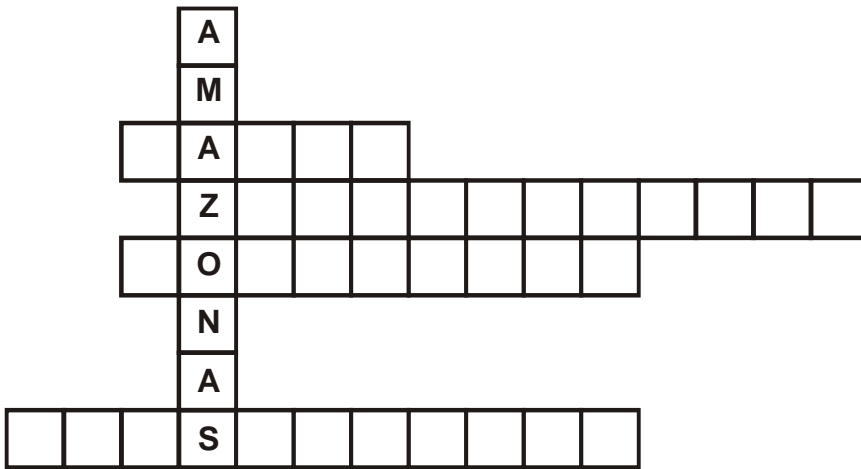


2. Averigua ¿Cuál es el origen del Río Amazonas?

3. Representa a través de un dibujo el departamento de Amazonas teniendo en cuenta lo exótico de la jungla y la ciudad moderna.

# CIRCULO EDUCATIVO

4. Completa los cuadros según los ríos y lagos mencionados en el texto.



EN TU CASA Y CUADERNO.

► RESPONDE:


1. ¿Cuál es el principal río de Loreto?
2. Dibuja el principal río de Loreto?



# CIRCULO EDUCATIVO


## II. SOPA DE LETRAS

En la siguiente sopa de letras, busca el nombre de las provincias de Loreto



## III. Y AHORA, AL MAPA

En el siguiente mapa, ubica las provincias de Loreto



1. Alto Amazonas
2. Loreto
3. Mariscal Ramón Castilla
4. Maynas
5. Requena
6. Ucayali



## PRÁCTICA CALIFICADA

Nombre: \_\_\_\_\_ Grado: 4<sup>to</sup> \_\_\_\_\_

### I. Lee atentamente y responde:

#### FIESTA DE SAN JUAN

Esta fiesta se celebra en todos los pueblos y ciudades del departamento el 24 de junio de cada año. Se cree que San Juan bendice el cauce de los ríos y quien se bañe en ellos tendrá dicha y felicidad durante todo el año. En la ciudad de Iquitos la fiesta central se celebra en el barrio de San Juan, de donde sale una procesión que recorre las principales calles. Las celebraciones empiezan con las humishas, palmeras especialmente decoradas y cargadas con regalos, alrededor de las cuales bailan grupos de personas reunidos en pandillas. El plato típico de la fiesta es el juane, tamal de arroz con gallina envuelto en hojas de bijao y consumido en toda la región. En algunas poblaciones las fiestas se extienden hasta el día siguiente.

#### RESPONDE

1. ¿En qué lugares se celebra esta fiesta?

\_\_\_\_\_


2. ¿En qué consiste la fiesta?

\_\_\_\_\_

3. ¿Cuál es el plato típico de la fiesta?

\_\_\_\_\_

### II. En las siguientes figuras relaciona:



Orquídeas – Río Amazonas – árboles – Reptiles