



## GEOGRAFIA FISICA EN LA SIERRA

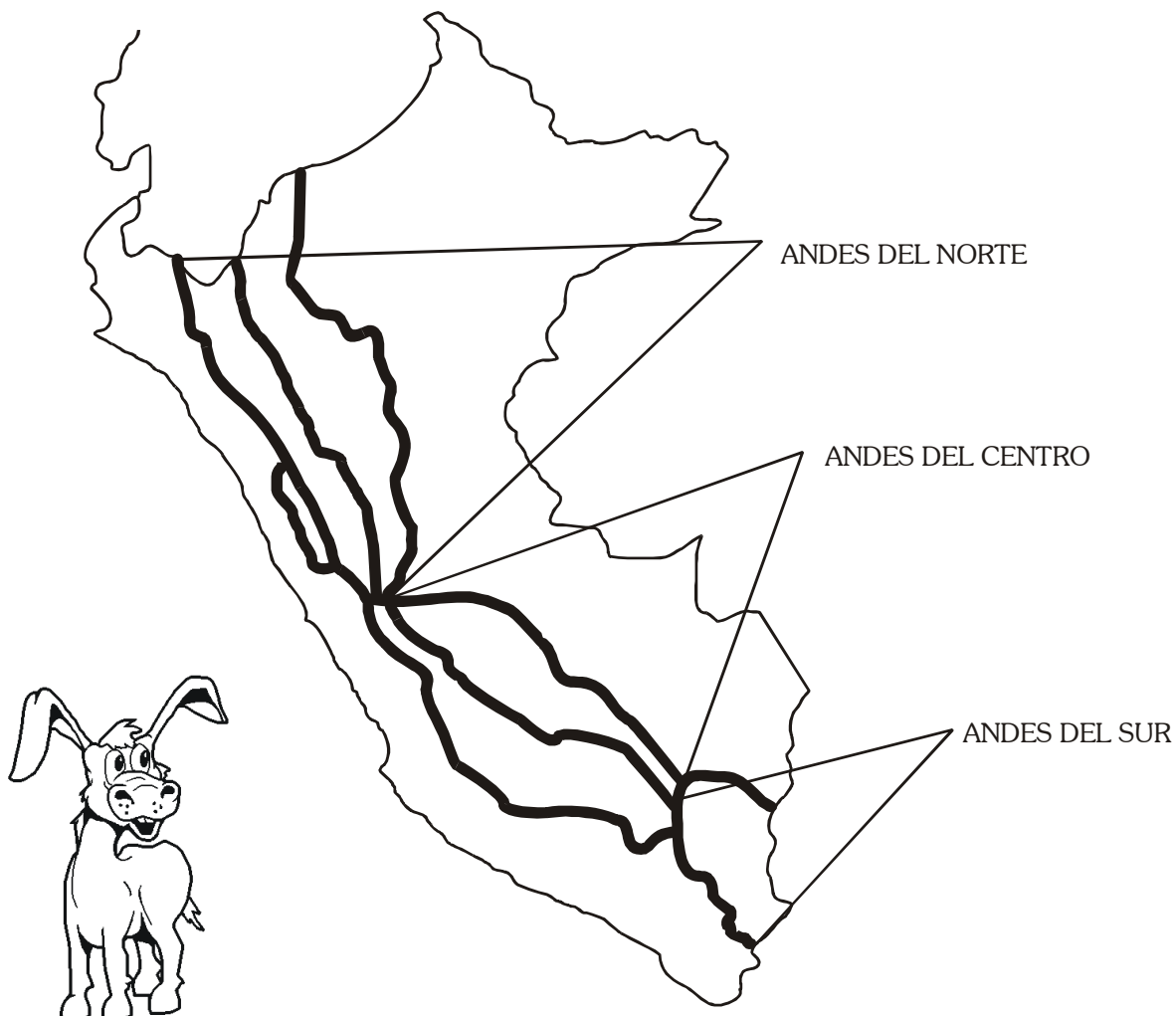
Los andes peruanos, principal fenómeno geográfico que existe en nuestro territorio, comprende tres grandes sectores: los andes del sur o meridionales, los andes centrales y los andes del norte o septentrionales.

Los andes del sur están localizados entre las fronteras con Chile y Bolivia y el Nudo de Vilcanota.

Los andes centrales se extienden desde el Nudo de Vilcanota, por el sur, hasta el Nudo de Pasco, por el norte.

Los andes del norte se localizan entre el Nudo de Pasco y la frontera con el Ecuador.

► En el siguiente gráfico pinta los Andes del Norte de rojo, los Andes del Centro marrón y los Andes del Sur de verde.



## PRÁCTICA CALIFICADA

Nombre: \_\_\_\_\_ Grado: 4<sup>to</sup> \_\_\_\_\_

### I. Lee atentamente y responde:

La Cordillera de los Andes es el principal fenómeno geográfico en el Perú, es una parte de los Andes (cadena montañosa).

Debido a la Cordillera Andina nuestro país cuenta con una gran diversidad climática, variedad de flora y fauna y grandes recursos mineros.

Los Andes es el sistema montañoso más largo del mundo con 8900 km, se extiende desde la isla tierra de fuego hasta las Antillas, está formado por las montañas más altas: Aconcagua (6969 m), Huascarán (6768 m), etc.

### Responde:

1. ¿Cuál es el sistema montañoso más largo del mundo?

\_\_\_\_\_

2. ¿Cuál es su extensión?

\_\_\_\_\_

3. ¿Cuál es la montaña más alta del Perú?

\_\_\_\_\_

4. ¿Qué recursos naturales se encuentran en nuestro territorio? Da dos ejemplos:

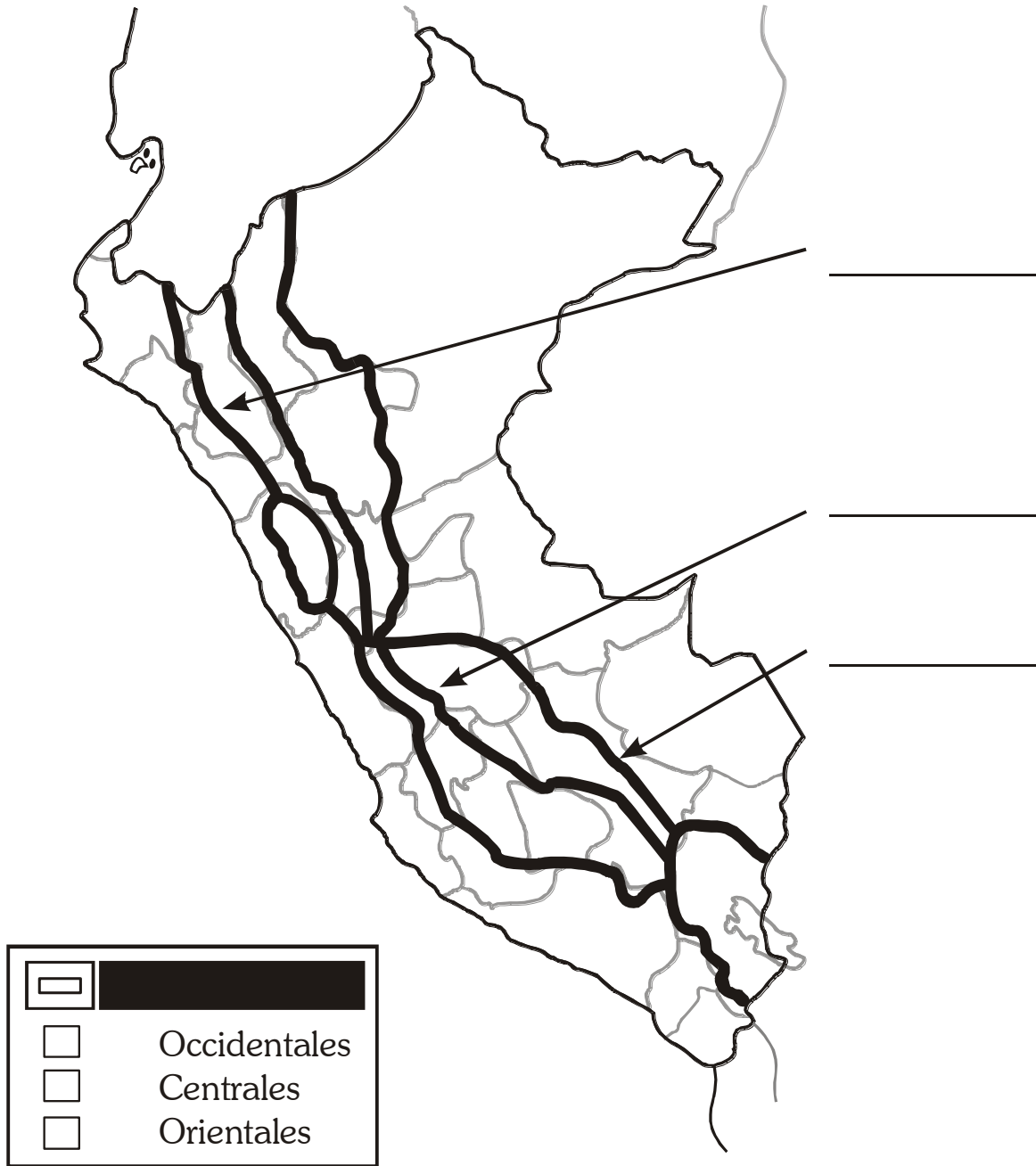
Flora: \_\_\_\_\_

Fauna: \_\_\_\_\_

Minerales: \_\_\_\_\_

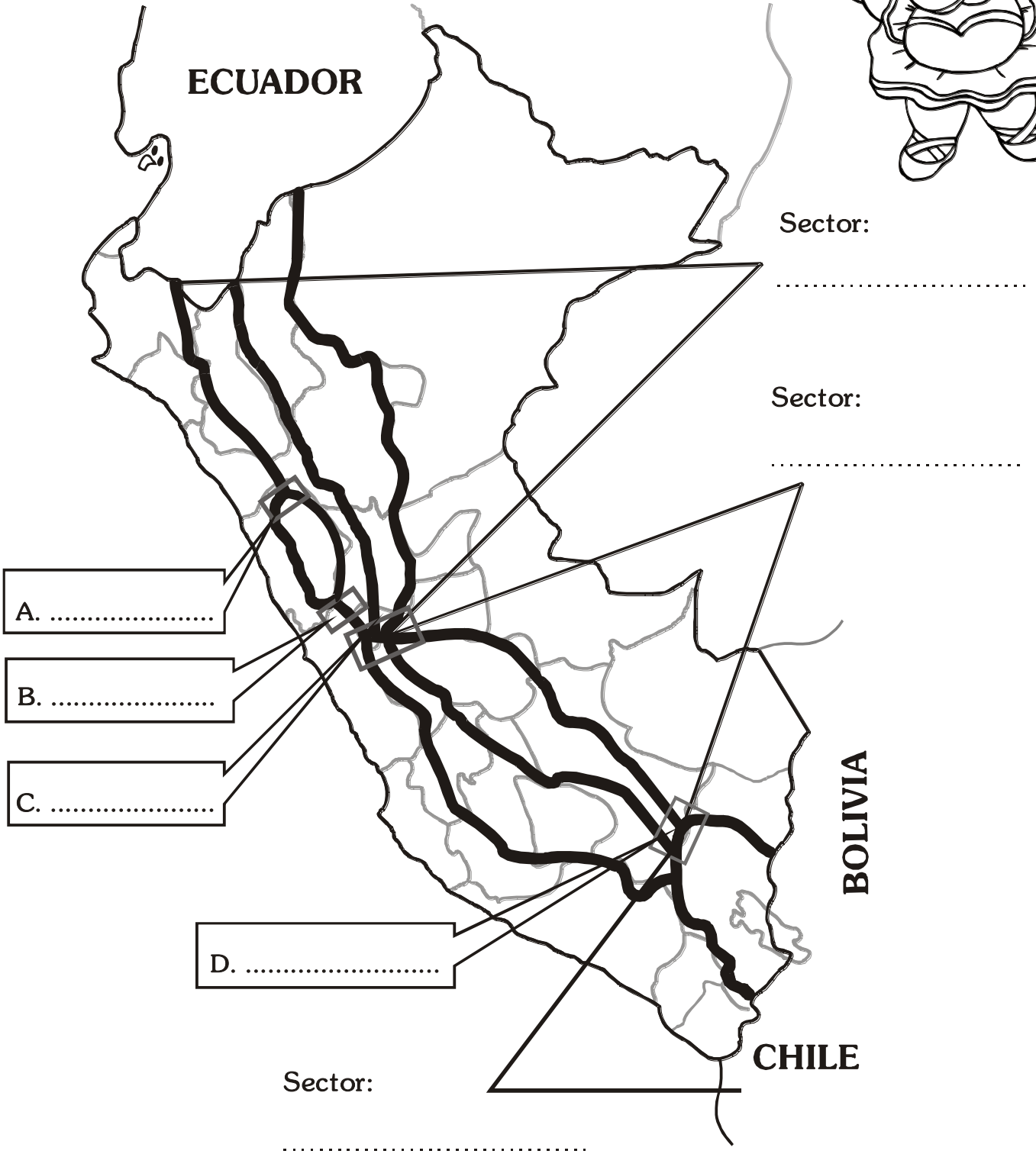


II. Ubica y pinta las cordilleras del Perú.



Estructura de los Andes Peruanos

III. Completa: Los Nudos:



# CIRCULO EDUCATIVO


## JUNÍN

¿Sabías Que?



La mayor parte de territorio de Junín se encuentra en la Selva.

- ▶ Capital: { - Huancayo
- ▶ Población: { - Aproximadamente 1 118801 habitantes
- ▶ Superficie: { - 44 410 km<sup>2</sup>
- ▶ Clima: { - Templado y seco
- ▶ Provincias: { - Son 9: Chanchamayo, Chupaca, concepción, Huancayo, Jauja, Junín, Satipo, Tarma, Yauli.
- ▶ Distritos: { - 132 distritos
- ▶ Temperatura: { - 11,1°C
- ▶ Red vial : { - 6 128 km
- ▶ Distancias. {
  - Huancayo a Lima 298 m
  - Huancayo a Ayacucho 296 km
  - Huancayo a Cuzco 889 km





- ❖ Observa los valles de ésta región y descríbela



## *PRÁCTICA CALIFICADA*

Nombre: \_\_\_\_\_ Grado: 4to \_\_\_\_\_

- | Lee el siguiente texto y luego responde:

### *Junín un departamento andino y selvático*

Junín, departamento ubicado en la zona central del país, tiene una gran extensión de territorios en zonas de selva alta, con altitudes entre los 600 y los 2 mil m.s.m.

Aunque muchos sectores han sido colonizados, en su mayoría constituyen una región agreste; pero de hermosos paisajes.

# CIRCULO EDUCATIVO

Responde:

1. ¿Qué regiones abarca el departamento de Junín?

---

---

2. ¿Cuál es la altitud que abarca el territorio de Junín en la selva alta?

---

---

3. ¿Por qué se dice que constituye una región agreste?

---

---

IV. *Observa lo siguiente:*

Nevado Ticlio



Comenta: \_\_\_\_\_

---

Mina Polimetálica de Morococha




¿Qué minerales hay en esta mina?

\_\_\_\_\_

\_\_\_\_\_

V. En el siguiente mapa colorea de color azul el departamento de Junín.



## CIRCULO EDUCATIVO



**IV. Ubica en el siguiente mapa las provincias del departamento de Junín.**

Colocar mapa del departamento de Junín, sin los nombres de provincias.



**TRABAJEMOS EN CASA**



### TAREA DOMICILIARIA

1. Menciona 5 atractivos turísticos del departamento de Junín y dibújalos.
2. Averigua las rutas que establecen en este departamento.
3. ¿Qué otras minas conoces en este departamento?
4. ¿Cuál es el complejo minero – metalúrgico, considerado como el más sofisticado del mundo?
5. Menciona 3 valles fértiles de esta región y dibújalos.

