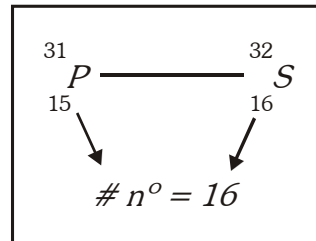
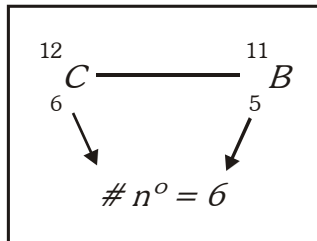




ISOTONOS

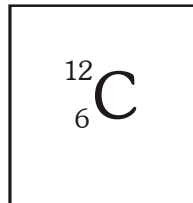
Son átomos de _____ elementos que poseen el _____ número de neutrones.

Ejemplo:

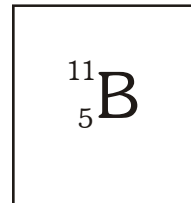


≠ elementos de = N° de n°

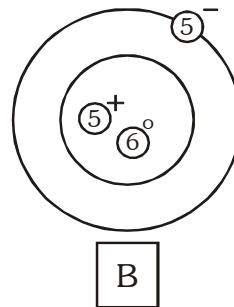
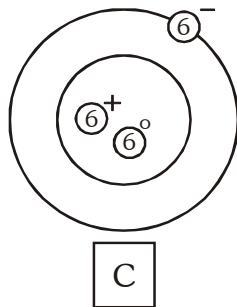
... Porque ...



y



Significa que ...



Los 2 átomos tienen 6 neutrones por lo tanto son: _____

BUSCA OTROS ISÓTONOS Y GRÁFICOS



Representación



Representación



Representación



Representación

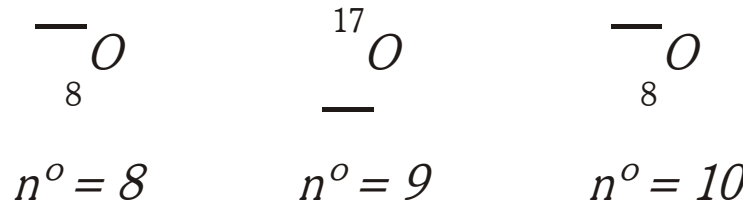


CIRCULO EDUCATIVO

Practica de lo que ya sabes !

1. Completa A y Z.

Si son isótopos del oxígeno:



2. Cuántos neutrones tendrán los siguientes Isótopos.

