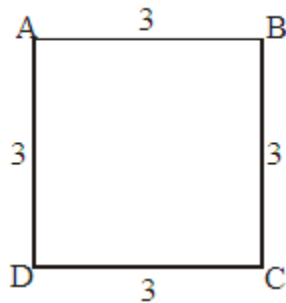




## PERIMETRO DE POLIGONOS

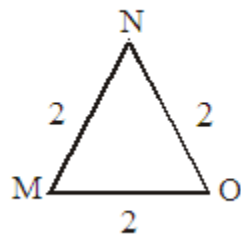
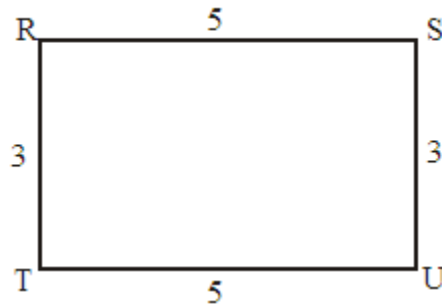
**Perímetro.**- Es la suma de las medidas de los lados de un polígono.

**Observa:**



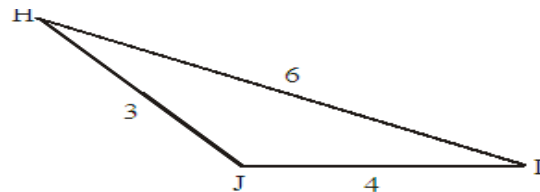
$$\text{Perímetro} = 3 + 3 + 3 + 3 = 12$$

$$\text{Perímetro} = 5 + 5 + 3 + 3 = 16$$



$$\text{Perímetro} = 2 + 2 + 2 = 6$$

$$\text{Perímetro} = 3 + 4 + 6 = 13$$

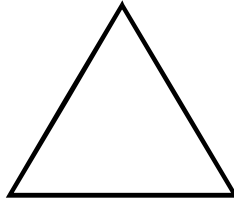



**Recuerda:**

**PERÍMETRO DE UN POLÍGONO.**  
Es la suma de la longitud de sus lados.

## EJERCICIOS

⇒ Mide los lados y, halla el perímetro de las siguientes figuras.



## PROBLEMAS

- 1) Si un lado de un cuadrado mide 14 cm y el otro mide 18 cm. ¿Cuál será su perímetro?
- 2) La mitad del lado de un cuadrado mide 4 cm. ¿Cuál será su perímetro?
- 3) La mitad del lado de un cuadrado es 16 cm. ¿Cuánto mide cada lado?
- 4) El doble del lado de un cuadrado es 14 cm. ¿Cuál es su perímetro?

## CIRCULO EDUCATIVO

---

- 5) Si el ancho de un rectángulo mide 3 cm y el largo mide el doble.  
¿Cuál es su perímetro?
- 6) El largo de un rectángulo es 16 cm y el ancho mide la mitad del largo.  
Hallar su perímetro.
- 7) Hallar el perímetro de una piletta de forma triangular que mide 3 m por lado.
- 8) Hallar el perímetro de un triángulo que mide 2, 3 y 5 cm, respectivamente.
- 9) El perímetro de un cuadrado mide 24 cm. ¿Cuánto mide cada lado?

