





PROBLEMAS CON SUMAS Y RESTAS


1.- Compré 22  lápices y me regalaron 12 lápices más ¿Cuántos lápices tengo ahora?

<i>Operación</i>	<i>Respuesta</i>



2.- Susi tiene 75 nuevos soles. Ella compró un  por 25 nuevos soles. ¿Cuánto dinero le quedó?

<i>Operación</i>	<i>Respuesta</i>

3.- Jimmy compró un  que le costó 26 nuevos soles y un juego de ludo que le costó 39 nuevos soles. ¿Cuánto gastó Jimmy?

<i>Operación</i>	<i>Respuesta</i>

CIRCULO EDUCATIVO

4.- En un salón de clases estudian 49 niños de los cuales 29 son hombres. ¿Cuántas mujeres estudian en ese salón?

<i>Operación</i>	<i>Respuesta</i>

5.- Carlos tenía 79 nuevos soles para comprar en la juguetería y gastó 55 nuevos soles en un juego de cubos. ¿Cuánto dinero le quedó a Carlos?

<i>Operación</i>	<i>Respuesta</i>



6.- Tengo 60  rojos y 7 verdes. ¿Cuántos  tengo en total?

<i>Operación</i>	<i>Respuesta</i>

PROBLEMAS

1. En una canasta tengo 18 habas, 25 tomates, 16 zapallos. ¿Cuántos hay en total?





Operación

Respuesta

2. Un carro avanza 341 km, en una 2da. vuelta avanza 299 km. ¿Cuántos kilómetros avanza?

Operación

Respuesta


1. Tengo que comprar útiles escolares  me cuesta S/. 10.00 soles,  me cuesta S/. 5.00 soles. Si quiero comprar 2  y 3 . ¿Cuánto me costará?

Operación

Respuesta

CIRCULO EDUCATIVO

Resuelve las sumas y las restas con símbolos



$$\star = 92$$

$$\uparrow = 60$$

$$\heartsuit = 4$$

$$\triangle = 100$$

$$270 + \star =$$

$$314 + \star =$$

$$169 - \uparrow =$$

$$\heartsuit + 222 =$$

$$260 + \uparrow =$$

$$\heartsuit - 2 =$$

$$286 + \heartsuit =$$

$$\uparrow - 10 =$$

$$\triangle - 58 =$$

$$136 + \star =$$

$$\uparrow + \star =$$


$$\heartsuit + \star + \uparrow =$$

$$\triangle - \star - \heartsuit =$$

$$\uparrow + \uparrow - \star =$$

$$\triangle + \triangle + \triangle =$$

$$\triangle - \triangle =$$



1. En la bodega compré S/. 75.00 soles de zanahorias, S/. 468.00 soles de tomate y S/. 83.00 soles de lechuga. ¿Cuánto gasté en total?



S/. 75



S/. 468



S/. 83

Operación

Respuesta

2. Tenía S/. 225.00 y compré 1 pantalón, me costó S/. 75.00 soles 1 camisa, costó S/. 60.00 un saco me costó S/. 80.00 soles. ¿Cuánto de vuelto he de tener?

Operación

Respuesta

S/. 75



S/. 80



S/. 60



CIRCULO EDUCATIVO

3. Alexander tiene S/. 135 soles y Federico S/. 215.00 soles.
¿Cuánto dinero tienen juntos?
¿Cuánto más tiene Federico



Operación

a.

b.



a. -----

Respuesta

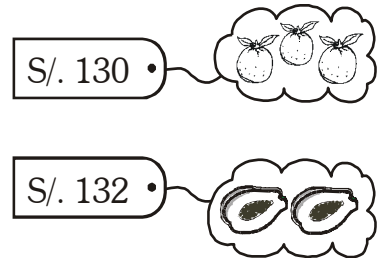
b. _____

4. Esta semana Pablo vendió 130 cajas de papaya y 152 cajas de naranjas. ¿Cuántas cajas de frutas vendió Pablo?, la semana pasada vendió 400 cajas en total. ¿Cuál es la diferencia con ésta semana?

Operación

a.

b.



a. -----


Respuesta

b. _____

¡ a resolver problemas !



PROBLEMAS













Diego, Dayana y Valeria fueron de compras al mercado, fijate en la lista de precios y contesta. ¿Cuánto gastó cada uno?

1. Diego compró 1 kilo de queso y 2 kilos de ajos.
¿Cuánto gasto Diego?

Operación

Respuesta

Lista de Precios

1 kilo de carne		15 soles
1 kilo de queso		9 soles
1 kilo de limones	 	8 soles
1 kilo de papas	 	1 sol
1 kilo de aceitunas	 	12 soles
1 kilo de ajos	 	7 soles

2. Dayana compró 1 kilo de carne y 2 kilos de limones. ¿Cuánto gastó Dayana?

Operación

Respuesta

3. Valeria compró 5 kilos de papas, 1 kilo de aceitunas y 1 kilo de carne. ¿Cuánto gastó Valeria?

Operación

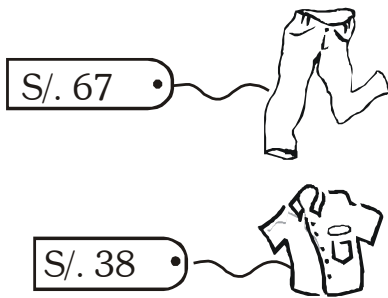
Respuesta

4. ¿Cuánto gastaron los tres juntos?

Operación

Respuesta

CIRCULO EDUCATIVO



1. Ayrton compra un pantalón y una camisa.
¿Cuánto gastó en las dos prendas y cuánto tiene de vuelto, si entregó 120 soles?

Operación

Respuesta

2. Luis viajó 135 kilómetros en moto, 412 kilómetros en bicicleta y 148 kilómetros en auto.
¿Cuántos kilómetros viajó Luis?

Operación

Respuesta

3. El papá de Adolfo tiene 38 años y Adolfo tiene 32 años menos que su papá. ¿Cuántos años tiene Adolfo?

Operación

Respuesta

4. Alejandro tiene 36 chapitas más que Katerine, si Katerine tiene 68 chapitas. ¿Cuántas chapitas en total tendrá Alejandro?

Operación

Respuesta