



**SECUENCIAS GRAFICAS**

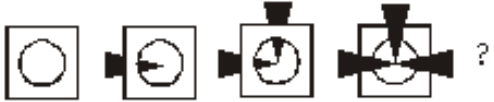
Secuencias Gráficas

Conjunto de figuras que cumplen una regla de formación



**EJERCICIOS RESUELTOS**

1. Completa la secuencia :



Solución:



2. Completa la secuencia:

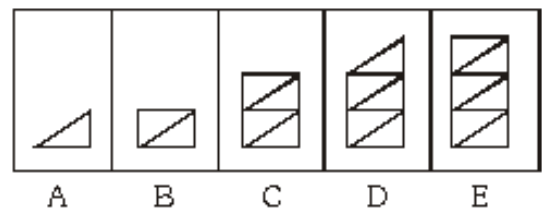
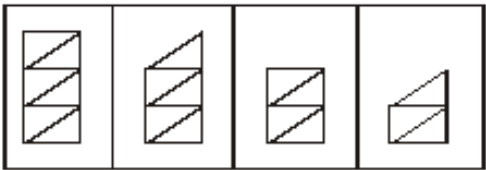


Solución:



3. Completa las secuencias:

A)



Solución:



Solución:



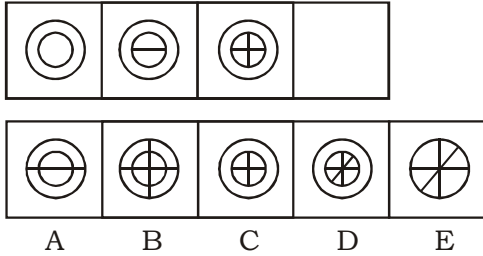
C) Marca con un aspa la figura que se diferencia de los demás.



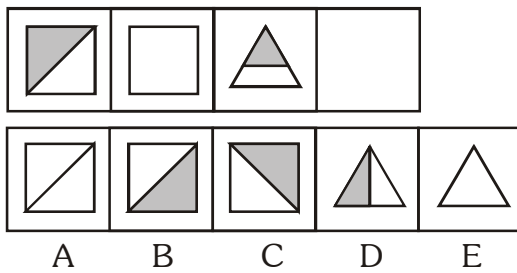
Rpta. B) Todas tienen sombreada 4 partes

## PON A PRUEBA TUS CONOCIMIENTOS

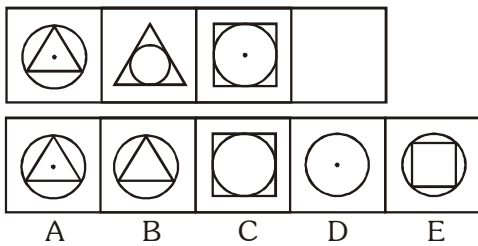
1. ¿Qué figura continúa?



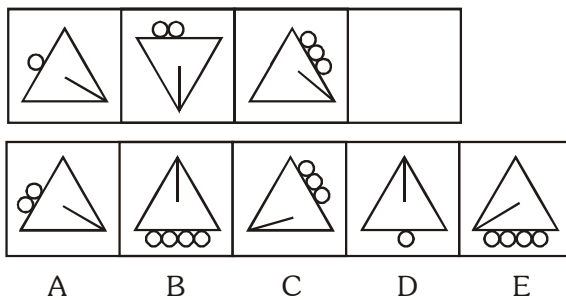
2. ¿Qué figura continúa?



3. ¿Qué figura continúa?



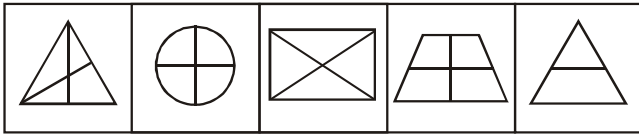
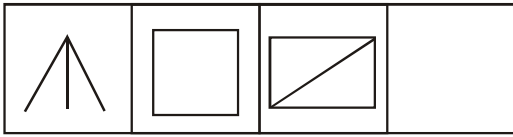
4. ¿Qué figura continúa?



# CIRCULO EDUCATIVO

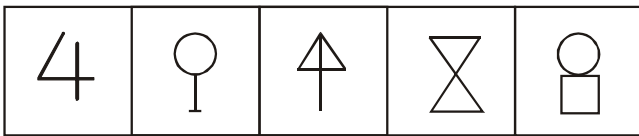

Indicar en cada caso, cual de las figuras continúa:

1.




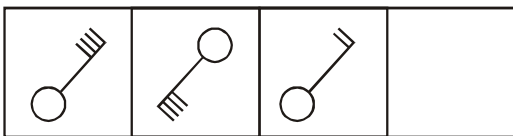
A B C D E

2.



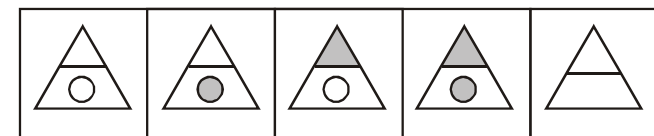
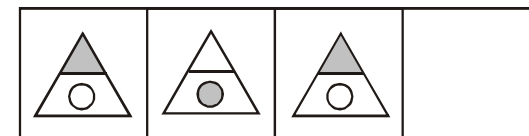
A B C D E

3.



A B C D E

4.



A B C D E



# CIRCULO EDUCATIVO



## TAREA

PARA LA CASA



Marca la alternativa correcta:

1. 

	o o o	•••	xxx
--	-------	-----	-----

	o o o	lolol	•••	///
A	B	C	D	E

2. 

8	X	3	Y
---	---	---	---

A	B	C	D	E
(	○	<	3	///

3. 

I-	I-	I+	I+
----	----	----	----

A	B	C	D	E
I#	I#	I#	I#	I+

4. 

(-)	)#(	(-)	)#(
-----	-----	-----	-----

A	B	C	D	E
(-)	(-)	)#(	(-)	)#(

5. 

⊕	⊕	⊕	⊕
---	---	---	---

A	B	C	D	E
⊕	⊕	⊕	⊕	⊕

6. Marca con un aspa la figura que se diferencia de los demás



A



B



C



D



E