






TERMINO EXCLUIDO

► Colorea la figura que no corresponde a cada recuadro.




TÉRMINO EXCLUIDO

► Encierra cada término excluido.



$5 + 2$	$3 + 4$	$2 + 4$	$6 + 1$	$7 + 0$	$2 + 5$	$4 + 3$
---------	---------	---------	---------	---------	---------	---------

$8 + 8$	$9 + 7$	$10 + 6$	$5 + 3$	$7 + 9$	$6 + 10$
---------	---------	----------	---------	---------	----------



$6 + 6$	$7 + 5$	$8 + 4$	$5 + 6$
---------	---------	---------	---------

$3 + 2$	$4 + 1$	$1 + 2$	$5 + 0$
---------	---------	---------	---------

TÉRMINO EXCLUIDO

► Encierra la alternativa que no pertenece al grupo,

1) = 10

a) $2 + 8$

b) $3 + 4$

c) $6 + 4$

d) $7 + 3$

2) = 15

a) $3 + 5$

b) $7 + 8$

c) $9 + 6$

d) $11 + 4$

3) = 12

a) $9 + 3$

b) $5 + 7$

c) $4 + 3$

d) $6 + 6$


4) = 20

a) $15 + 5$

b) $13 + 7$

c) $10 + 10$

d) $10 + 5$



EJERCICIOS



1) Encierra la suma excluida

a) $2 + 3$

b) $4 + 1$

c) $3 + 3$

d) $5 + 0$

a) $10 + 8$

b) $7 + 9$

c) $9 + 9$

d) $11 + 7$

2)Cuál es la expresión excluida a:

33

a) $3D + 1U$

b) $3D + 3U$

c)  + 

d) $30 + 3$

55


a) $50 + 5$

b) $5D + 5U$

c) $50 + 8$

d)  + 





TERMINO EXCLUIDO

164 - 168 - 162 - 161

146 - 156 - 166 - 38 - 176 - 186

83 - 102 - 63 - 53 - 43 - 33

92 - 94 - 96 - 85 - 98 - 100

35 - 40 - 45 - 20 - 50 - 55

81 - 53 - 91 - 101 - 111 - 121

► *Encierra los números que no pertenecen a cada fila.*

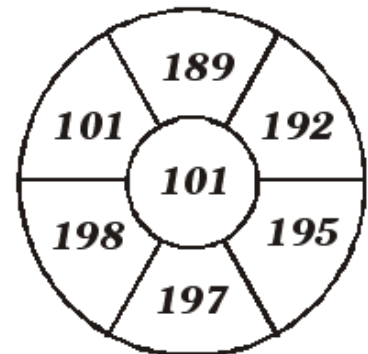
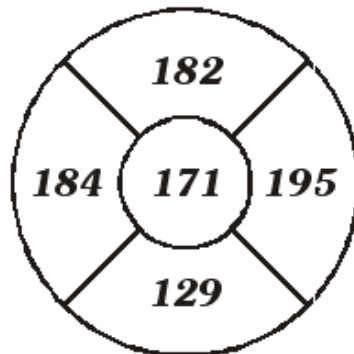
TERMINO EXCLUIDO

► Encierra la respuesta correcta.

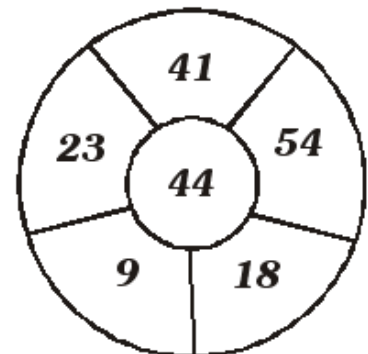
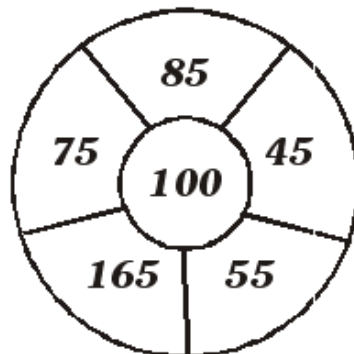
$= 42$ a) $20 + 22$ b) $32 + 10$ c) $40 + 12$	> 29 a) 25 b) 33 c) 27	< 52 a) 75 b) 62 c) 45
--	-----------------------------------	-----------------------------------

► La operación que no corresponde.

" Números mayores a ... "



" Números menores a ... "



Término Excluido



1. ¿Cuál es el número que no corresponde?

+	3	5	6	8
9	12	16	15	17

3. ¿Qué expresión no pertenece?

263

a)

b) $2C + 6D + 3U$

c) Doscientos sesenta y tres

d)

C	D	U
2	5	3

2. ¿Cuál es el falso?

a) $10 + 5 = \underline{\hspace{2cm}}$

b) $12 + 3 = \underline{\hspace{2cm}}$

c) $8 + 6 = \underline{\hspace{2cm}}$

b) $7 + 8 = \underline{\hspace{2cm}}$

4. ¿Qué analogía no es correcta?

